

令和7年度  
高等学校入学者選抜学力検査問題

第 3 部

社 会

注 意

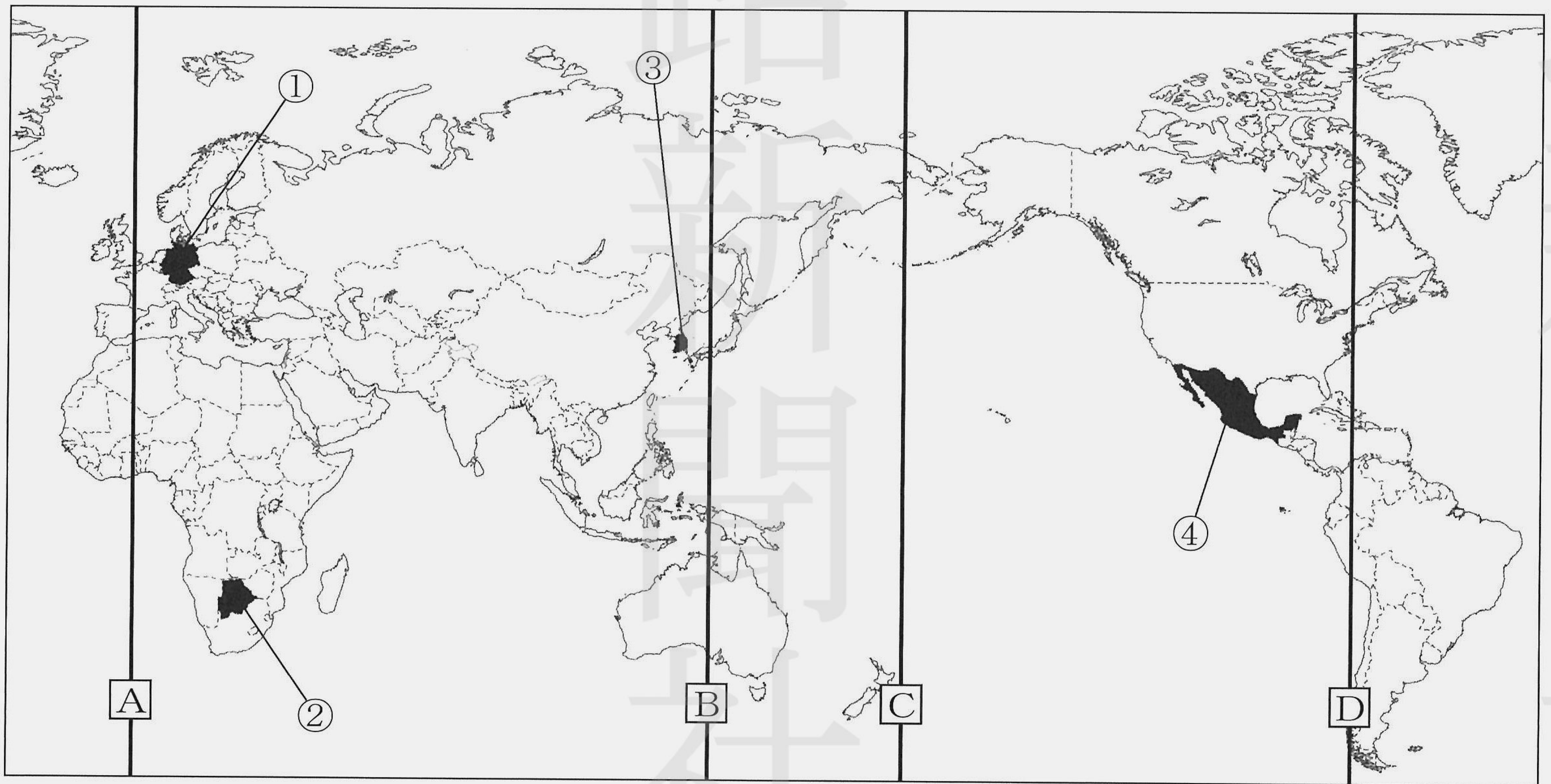
- 問題は、**1** から **4** まであり、15ページまで印刷してあります。
- 答えは、すべて別紙の解答用紙に記入し、解答用紙だけ提出しなさい。
- 問いのうち、「……選びなさい。」と示されているものについては、問いで指示されている記号で答えなさい。

1

次の問いに答えなさい。(配点 34)

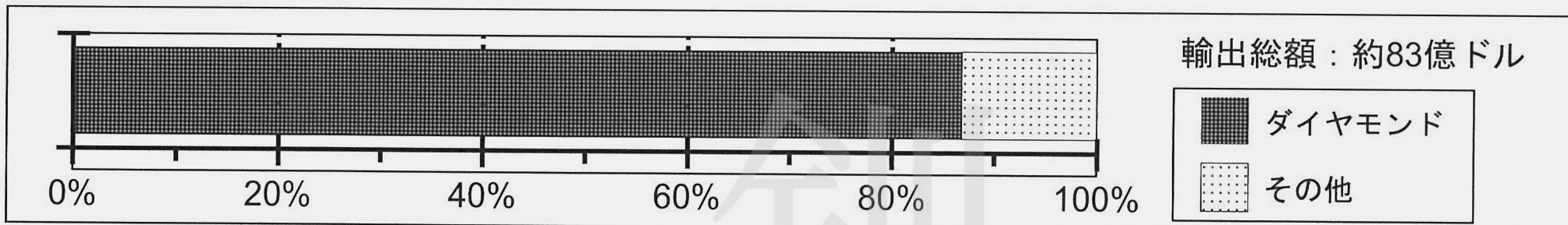
問1 略地図1を見て、次の(1)、(2)に答えなさい。

略地図1



- (1) 略地図1のA～Dの線は4つの経線を示しており、そのうちの1つは、本初子午線とよばれる経度0度の経線です。経度0度の経線をA～Dから選びなさい。
- (2) グラフは、略地図1の①～④のいずれかの国の輸出総額の内訳を示したものであり、モノカルチャー経済の特徴が読みとれます。このグラフに当てはまる国を、略地図1の①～④から選びなさい。また、モノカルチャー経済とはどのような経済ですか、簡単に書きなさい。

グラフ



※ データは2022年。「データブック オブ・ザ・ワールド2024」より作成

問2 次の(1)～(3)に答えなさい。

- (1) 資料1は、ある新聞記事の見出しと本文の一部です。次の  に共通して当てはまる語句を答えなさい。

資料1



**世界文化遺産に  
遺跡群決定**  
北海道・北東北の17遺跡

ユネスコは27日、国の特別史跡「三内丸山遺跡」(青森市)をはじめとした「北海道・北東北の  遺跡群」を世界文化遺産に登録することを決めた。

時代は日本独自の時代区分。「農耕・牧畜」と定住がほぼ同時に始まった世界の他地域とは異なり、 時代の人々は獣や魚、果物などをとって食べる「狩猟・採集・漁労」の生活をしながら、1カ所に定住するようになった。

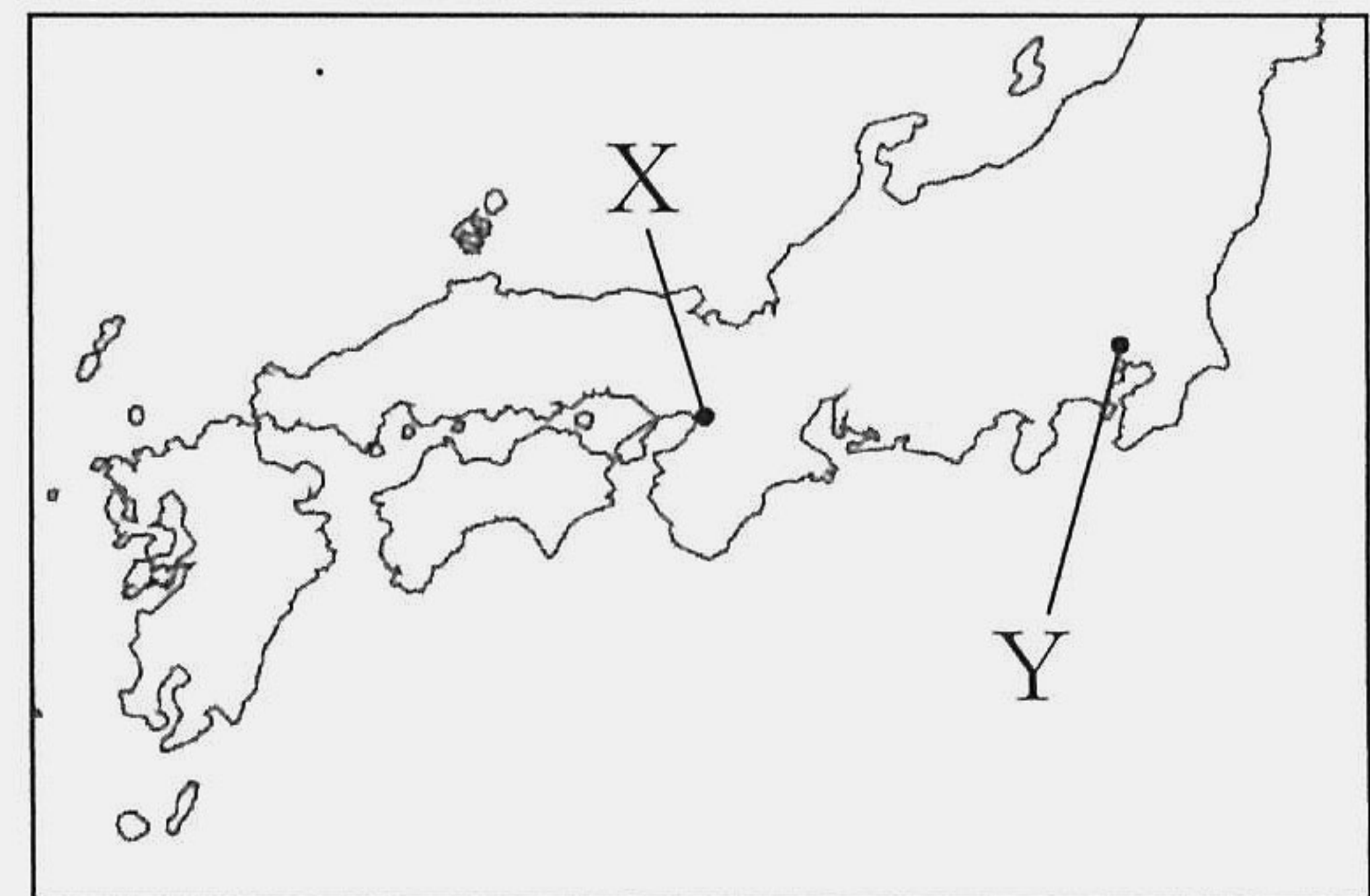
- (2) 次の文の { } に当てはまる語句を、ア、イから選びなさい。また、 に当てはまる語句を書きなさい。

16世紀の初め、ヨーロッパでは、{ア キリシト教                      イ イスラム教}のカトリック教会においてローマ教皇が資金を集めるための免罪符の販売を認めると、ドイツのルターがローマ教皇やカトリック教会を批判し、 が始まった。こうした とよばれる動きは、スイスでも起こった。

- (3) 次の文の  に当てはまる人の名を書きなさい。また、{ } に当てはまるものを、ア、イから選びなさい。

明智光秀を倒して織田信長の後継者となった は、略地図2の {ア X                      イ Y} の場所に城を築き、全国統一の拠点とした。  
また、 は、太閤検地や刀狩などの政策を行った。

略地図2



問3 次の(1)～(3)に答えなさい。

- (1) 次の文の  に当てはまる語句を書きなさい。

写真は、天皇が最高裁判所長官を任命する親任式の様子である。最高裁判所長官の任命は、天皇が行う の一つである。  
天皇が を行うときは、内閣の助言と承認が必要である。

写真



- (2) 次の文の  に当てはまる語句を書きなさい。

日本国憲法は、「すべて国民は、法の下に平等であって、人種、信条、性別、社会的身分又は門地により、政治的、経済的又は社会的関係において、差別されない。」と定めている。

このことに関して、例えば、2019年に、 の人々が日本列島北部周辺、とりわけ北海道の先住民族であることを明記し、 の人々が民族としての誇りをもって生活することができ、その誇りが尊重される社会の実現を目指して、 施策推進法（ 民族支援法）が制定された。

- (3) わが国の裁判所の権限の一つである違憲審査権とは、どのような権限ですか。「法律」という語句を使い、簡単に書きなさい。

問4 スライドは、ある中学生が、略地図3のA～Eのいずれかの県について考察し、まとめたものです。スライドと略地図3を見て、次の(1)、(2)に答えなさい。

スライド


**九州地方 ～火山のめぐみを利用する  県～**

○ 九州地方の東にあり、瀬戸内海に面している。

○ くじゅう連山などの火山がある。

★産業

八丁原地熱発電所

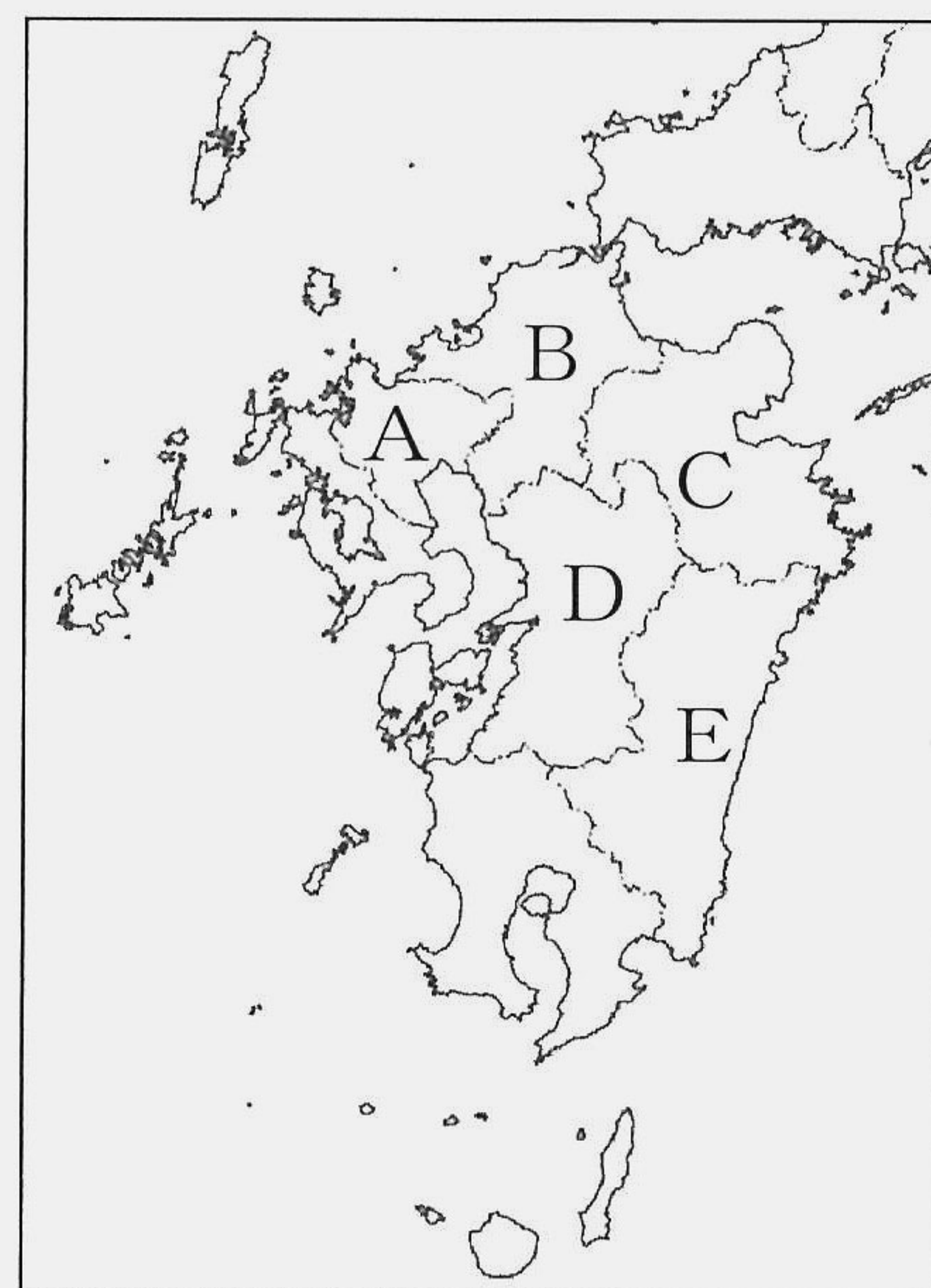


★観光

- ・別府温泉
- ・湯布院(由布院)温泉

外国人観光客  
にも人気!

略地図3



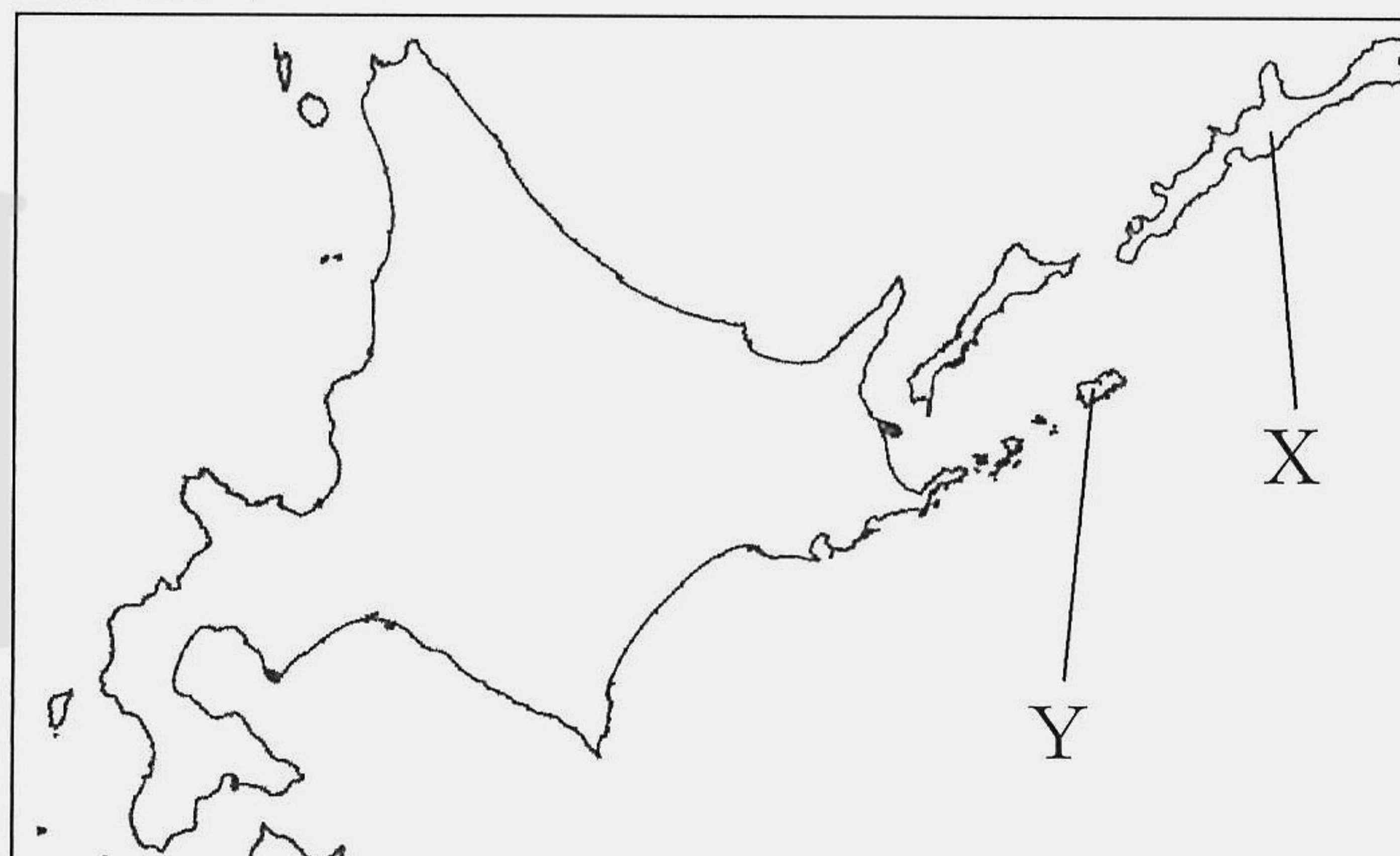
(1) スライドの  に当てはまる県の名を書きなさい。また、その県を、略地図3のA～Eから選びなさい。

(2) スライドは、どのような問いから考察されたものだと考えられますか、最も適切なものをア～エから選びなさい。

- ア 九州地方の伝統文化は、人々にどのように受け継がれているのだろうか。
- イ 九州地方の都市や農村は、人口の変化からどのような影響を受けているのだろうか。
- ウ 九州地方の自然環境は、人々の生活や産業にどのように生かされているのだろうか。
- エ 九州地方での交通網の整備は、人々の生活をどのように変化したのだろうか。

問5 日本固有の領土である北方領土のうち、略地図4のX、Yの島の名の組み合わせとして正しいものを、ア～エから選びなさい。

略地図4



- ア X－国後島 Y－色丹島
- イ X－国後島 Y－歯舞群島
- ウ X－択捉島 Y－色丹島
- エ X－択捉島 Y－歯舞群島

問6 次の(1)、(2)に答えなさい。

(1) 資料2、3は、ある中学生が、明治時代初期の文化について調べた際に収集したものです。次の文の  に当てはまる、この時期の風潮を表す語句を書きなさい。

資料2 東京の銀座の様子



資料3 牛鍋を食べる様子



2つの資料からは、近代化の政策をきっかけとして、西洋（欧米）の文化や生活様式が取り入れられて、伝統的な生活様式が変化し始めた頃の  と呼ばれる風潮が共通して読みとれる。

(2) 資料4, 5は、1951年のサンフランシスコ平和条約の締結からある年までの沖縄の状況を示したものです。資料4, 5から共通して読みとれる、この期間の沖縄の状況を簡単に書きなさい。

資料4 1961年発行の切手



※ドルでの額面の表示

資料5 1958年の新聞記事

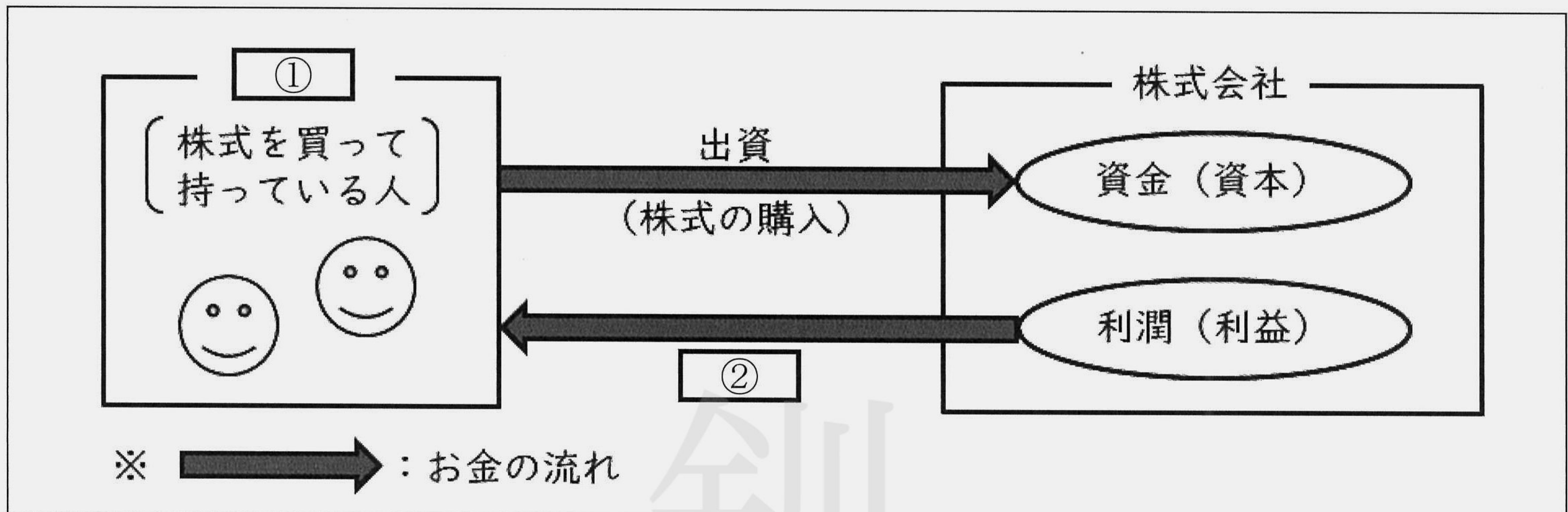
沖縄代表として初めて甲子園に出場した首里高校の野球チームは那覇へ入港した定期航路で帰郷したが、その時、選手がみやげに持ち帰った「甲子園の土」が植物防疫法にふれて無残にも港に捨てられてしまった。

(新聞記事を一部要約したもの)

問7 次の(1), (2)に答えなさい。

(1) 図は、ある中学生が、株式会社のしくみについて調べ、まとめたものです。図の  ①,  ② に当てはまる語句を、ア～オからそれぞれ選びなさい。

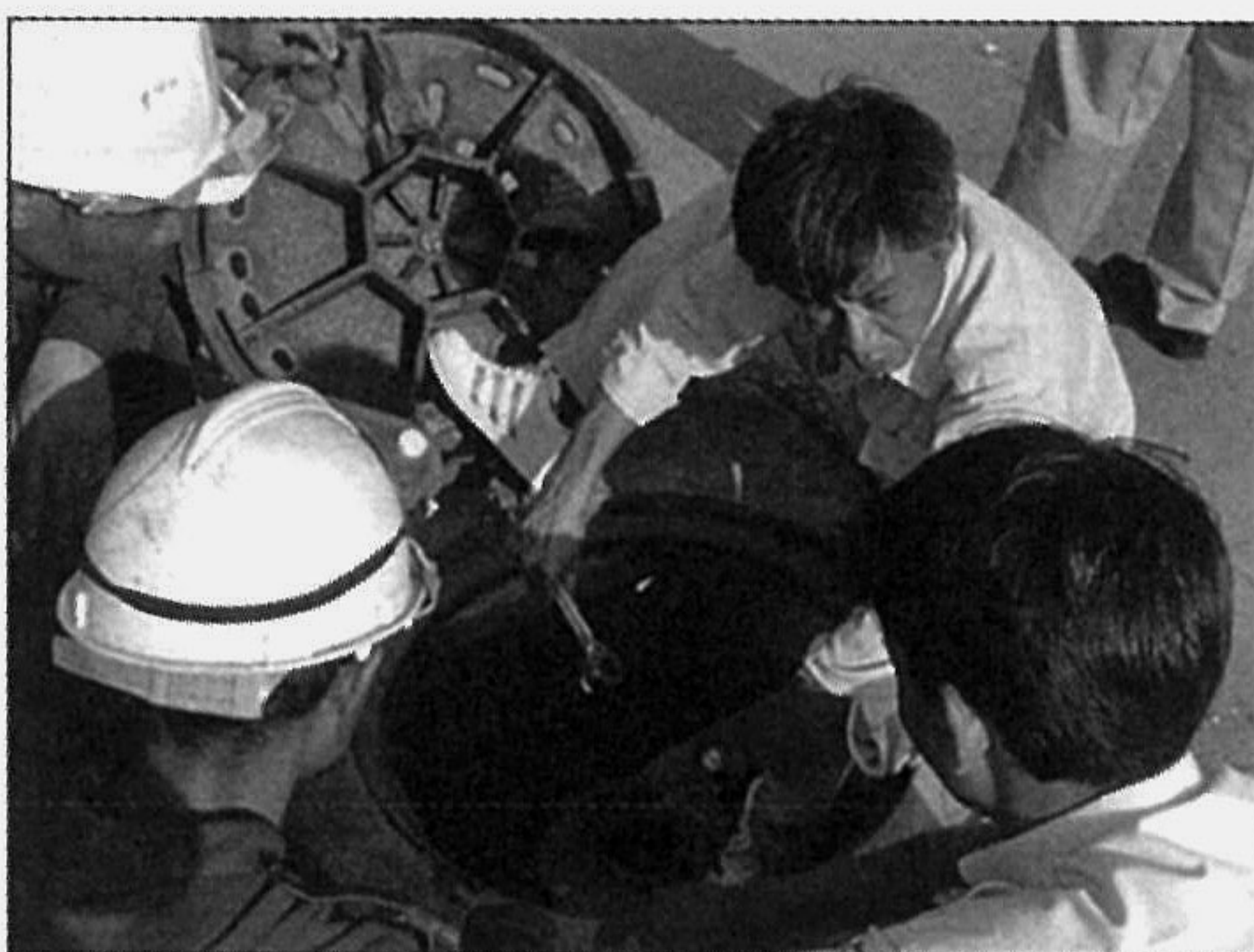
図



ア 金利      イ 株主      ウ 株価      エ 配当      オ 取締役

(2) 資料6, 7は、ある中学生が、日本の国際貢献について調べた際に収集したものです。日本政府による、このような技術や資金の協力のことを何といいますか、書きなさい。

資料6



カンボジアで、日本の技術者が水道管の管理について指導をしている様子

資料7




日本の資金協力で建設された「日本・エジプト友好橋」をデザインした切手

2

次のカードA～Eは、ある中学生が、わが国の歴史と関わりの深い船についてまとめたものです。これらのカードを見て、問いに答えなさい。(配点 22)

カードA




これは、日清戦争後に建造された軍艦の三笠です。日露戦争中、日本海海戦において、ロシアの艦隊に勝利した日本の連合艦隊の一隻です。

カードB



これは、鎖国政策がとられていた時代に、長崎に来航した中国の船です。貿易は、長崎に置かれた奉行の管理下で行われました。

カードC



これは、「蒙古襲来絵詞」に描かれた、元軍の船と日本の船です。手前の小さな船から、わが国の武士が元軍の船に乗り込もうとしています。

カードD



これは、「東征伝絵巻」に描かれた、遣唐使の船です。この絵巻には、遣唐使にともなわれた鑑真が、苦難を乗り越えて、来日した様子が記されています。

カードE



これは、高度経済成長期につくられた貨物船です。最高速度は20ノット(時速約37km)を超え、当時の商船としては快速を誇りました。

問1 表は、中学生が、カードA～Eを、わが国における歴史の時代区分とカードにまとめた内容によって分類するために作成したものです。カードA～Dは、表のア～ケのどこに当てはまりますか、それぞれ選びなさい。

表

時代区分 内容区分	古代	中世	近世	近代	現代
争い	ア	イ	ウ	エ	オ
交流・交易	カ	キ	ク	ケ	カードE

問2 資料1～3は、カードAに関して中学生が収集したりまとめたりしたものです。資料1～3から読みとれることをふまえ、次の文の  に当てはまる内容を書きなさい。

資料1 非常特別税法（1904年）

第一条 臨時事件により生じた経費を支払うため、本法により、地租、営業税、所得税、酒税、砂糖消費税、醤油税、登録税、取引所税、狩猟免許税、鉦区税及び各種の輸入税を増徴し、毛織物及び石油に消費税を課す。

資料2 日清戦争と日露戦争の比較

	戦費	死者数
日清戦争	2.3億円	1.4万人
日露戦争	18.3億円	8.5万人

（「日本長期統計総覧第5巻」より作成）

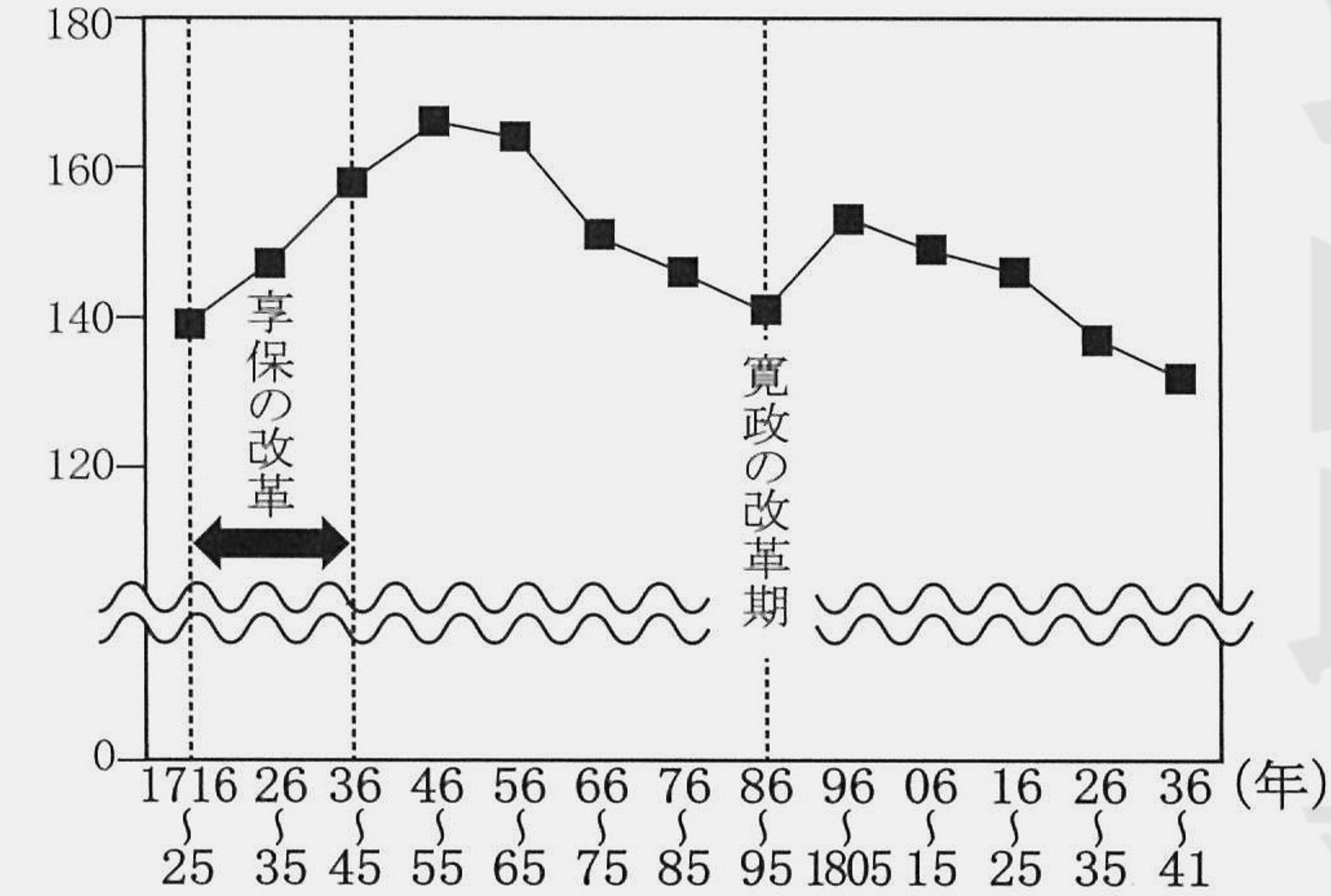
資料3 1905年の講和条約締結前の、賠償金に関する新聞各紙の主張

東京朝日新聞	軍事費、遺族年金のための元金、その他の損害も計上すると30億円を超えるが、これは実費であり、賠償の要求は当然のことである。
読売新聞	賠償金の額については、少なくとも50億円を得るのでなければ、私たちの希望を満たすことはできない。
よるぢちようほう 万朝報	賠償金について、20億円を主張する者も30億円を主張する者もいるが、いずれも実際の軍事費に加え、戦争に関連した有形的損害を算出したものである。したがって、賠償金が多いことを望む。

講和条約締結後、日比谷焼き打ち事件と呼ばれる暴動が起こったのは、 ためと考えられる。

問3 グラフと資料4、5は、カードBに関して中学生が収集したりまとめたりしたものです。グラフと資料4、5をふまえ、田沼意次の政策を、政策の背景と目的にふれて、説明しなさい。

グラフ 幕府の年貢収納高（万石）



※ データは、それぞれの期間の平均（「日本史総覧IV」より作成）

資料4 株仲間についてのまとめ

- ・ 同業者によって組織された。
- ・ 一定の税を納めることで、商品の流通や販売を独占する特権を得た。
- ・ 構成員の数は、株が与えられた人数で固定され、新たな加入は制限された。

資料5 田沼意次の時代に出された法令

長崎で、中国の商人に売り渡すいりこ（干したなまこ）、干しあわびについて、これまで生産に不慣れな地域であっても、今後は、近隣の浦から、漁の仕方や中国向けの食材にするための加工の仕方を学び、増産に励むこと。安永七（1778）年三月二十六日。

（「徳川禁令考」を現代語訳し、一部要約したもの）

問4 カードCに関して、生徒と先生との次の会話を読んで、(1)、(2)に答えなさい。

生徒：元寇では、多くの船が日本に襲来したんですよね。

先生：そうですね。襲来前に、フビライは服属を求める文書を幕府に送ってきましたが、幕府がこれを拒否したため、元軍だけでなく、服属させた  からも兵を送ってきました。

生徒：元軍が日本に遠征軍を送ったのは二度だけですか。

先生：フビライは、三度目の日本遠征を計画していましたが、フビライの死により中止になりました。では、元寇後の東アジアの状況について、調べてみましょう。

(1)  に当てはまる国の名を、ア～エから選びなさい。

ア 高句麗      イ 新羅      ウ 高麗      エ 朝鮮

(2) 下線部 元寇後の東アジアの状況 について、資料6を参考にし、元寇後の東アジアの状況を説明した文として適当なものをa～eから2つ選んだとき、組み合わせとして正しいものを、ア～カから選びなさい。

#### 資料6

1976年早春、韓国南西部の新安沖で沈没船が確認された。海底からは、14世紀の青磁や白磁といった中国の陶磁器類2万点、銅銭800万枚、金属製品700点などに加え、日本のげたや刀、木簡なども見つかっている。

発見された木簡は、船荷の所有者や商品名などを表す荷札だった。京都の「東福寺」や博多の「<sup>はこざき</sup>筥崎(宮)」と記された木簡とともに、「八郎」「道阿弥」といった名もあった。中世東アジア諸地域の交流は、海商や僧侶たちが主導した。この船は神社仏閣のほか多くの商人が資本を出し合って仕立てた船でもあるようだ。荷札などから、この船は14世紀初めの中国元代の貿易船であることがわかった。

(新聞記事より作成)

- a 陶磁器類は、日本の主要な輸出品となっていた。
- b 日本は、中国から輸入した銅銭を使用していた。
- c 日本の神社仏閣は、交易には関わらなかった。
- d 幕府が主導する交易が行われていた。
- e 商人らによる民間の交易が行われていた。

ア a, c      イ a, d      ウ a, e

エ b, c      オ b, d      カ b, e

問5 カードDに関して、遣唐使が派遣されていた期間のできごととして正しいものを、ア～エから1つ選びなさい。

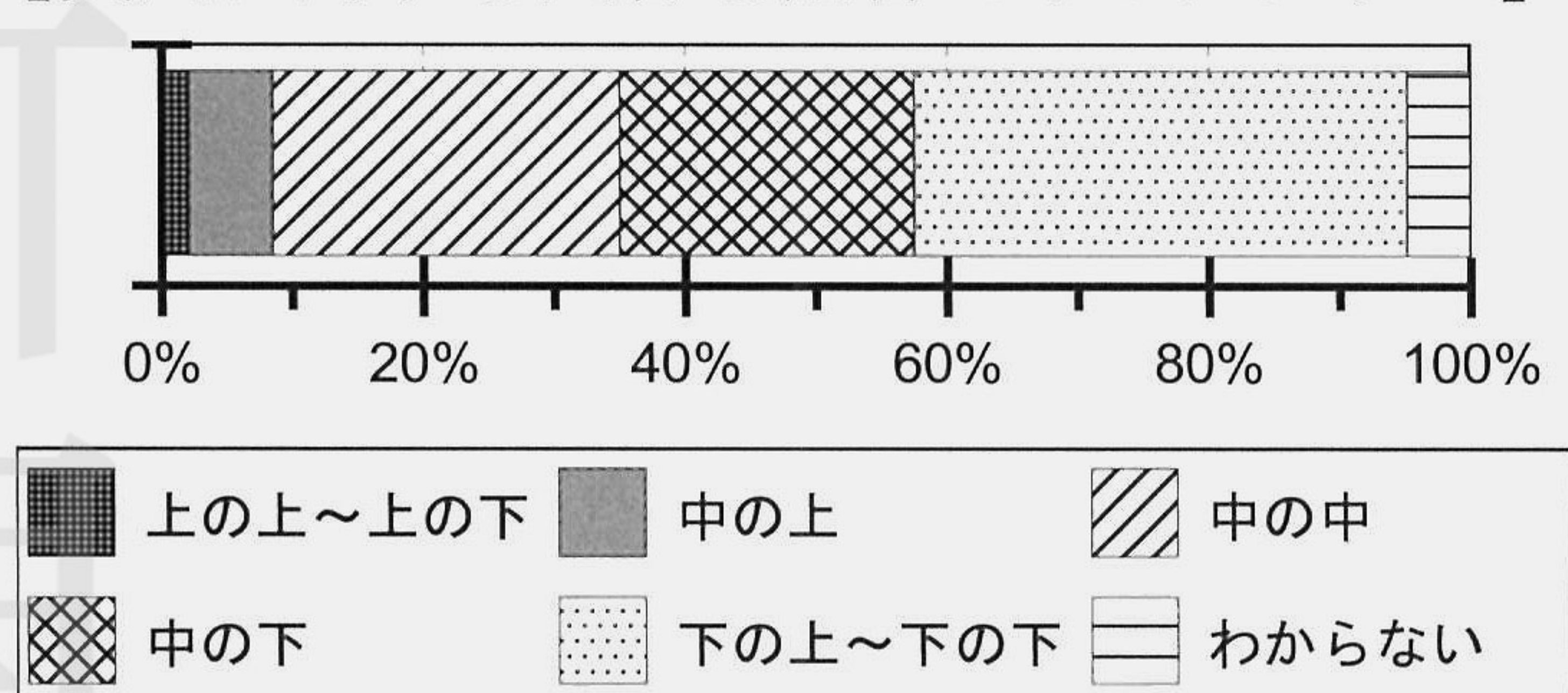
- ア 座禅によって自分でさとりをひらく禅宗が、栄西らによって伝えられた。
- イ 仏教は国を守る力をもつと考えられ、東大寺の大仏がつくられた。
- ウ 仏教を政治のよりどころとした聖徳太子によって、法隆寺が建てられた。
- エ 極楽浄土に生まれ変わることを願う浄土信仰(浄土の教え)が広がり、平等院鳳凰堂が建てられた。

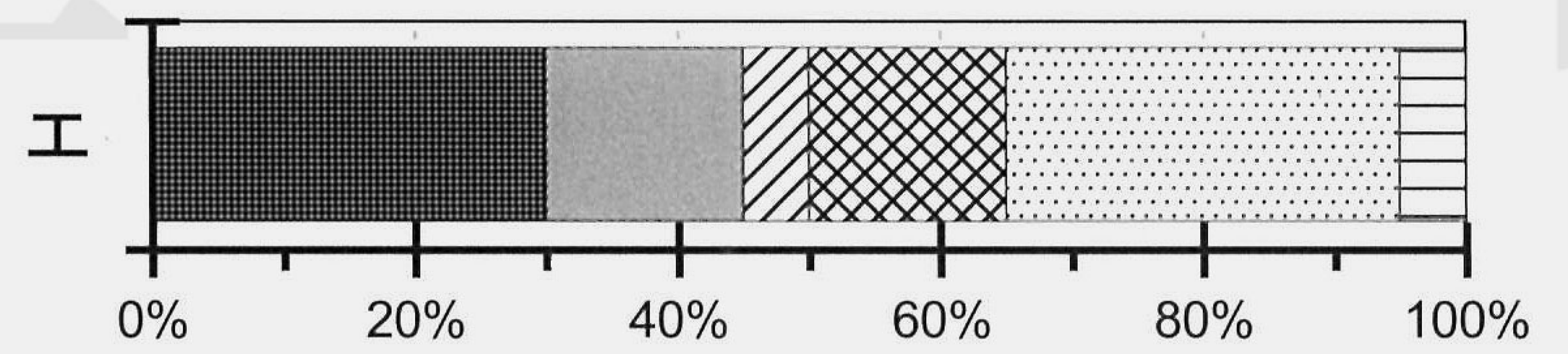
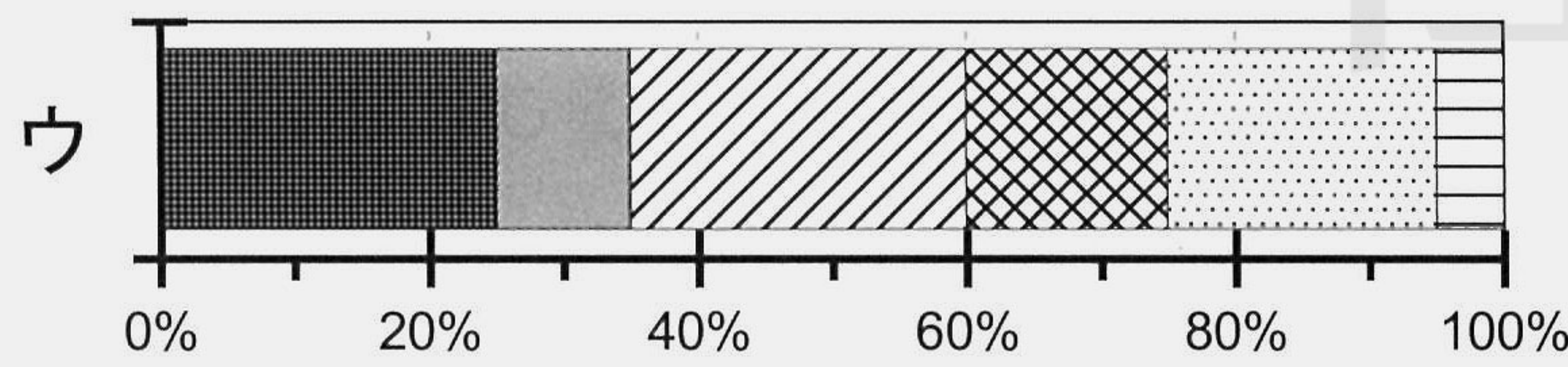
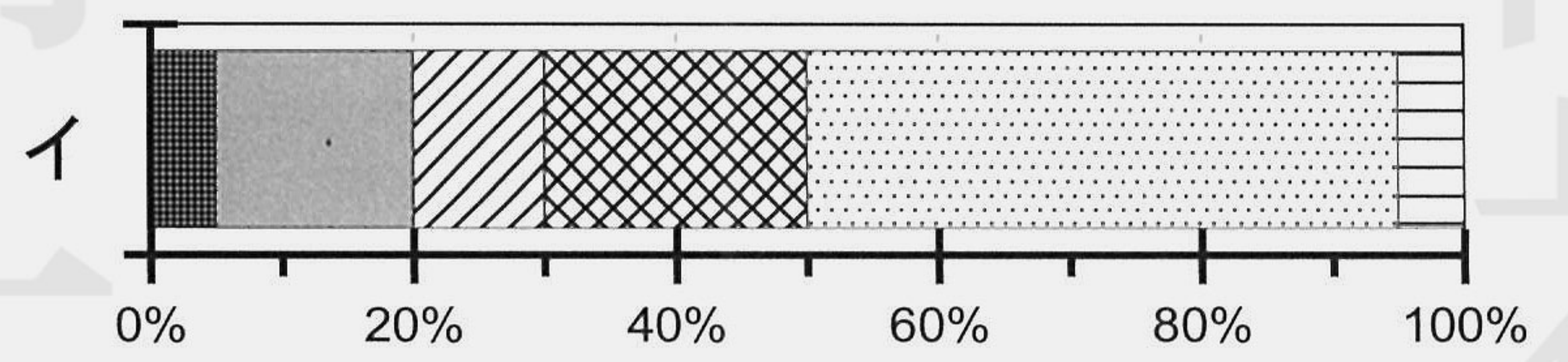
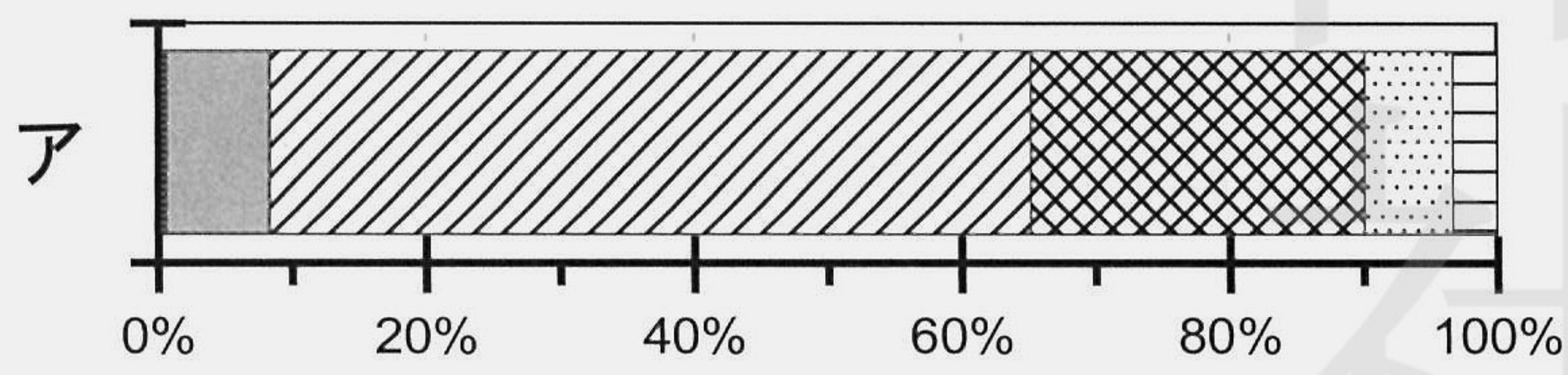


問6 カードEに関して、次の(1)、(2)に答えなさい。

(1) 資料7は、内閣府が行った、1954年度の「国民生活に関する世論調査」の一部をまとめたものです。内閣府が15年後の1969年度に同様の質問で行った世論調査の結果を表しているグラフを、ア～エから選びなさい。

資料7

<p><b>【質問】</b></p> <p>世間で一番いい暮らしをしている人達を上の上とし、一番わるい暮らしをしている人達を下の下として分ければ、お宅はどれに入りますか。</p>	<p><b>【質問に対する回答を割合で示したグラフ】</b></p> 
---	--



(2) 高度経済成長期のわが国でおきたできごとを示したものとして、当てはまらないものを、ア～エから1つ選びなさい。

ア



イ



ウ



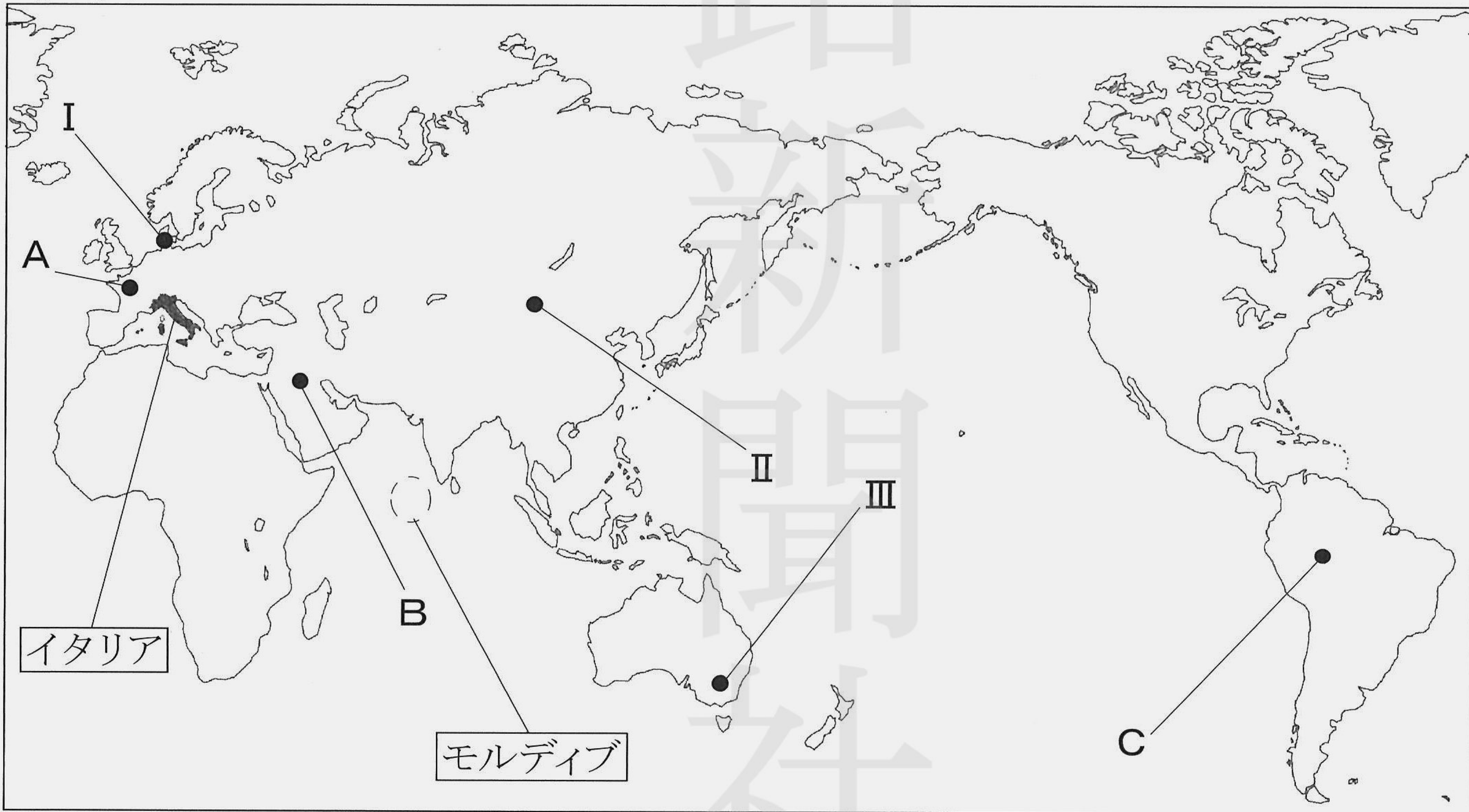
エ



3 次のA, Bに答えなさい。(配点 22)

A 略地図を見て、次の問いに答えなさい。

略地図



問1 先生と生徒との次の会話を読んで、 ① に当てはまる地域を略地図のA～Cから、 ③ に当てはまる地域を略地図のI～IIIから、それぞれ選びなさい。また、②、④の {            } に当てはまる語句を、それぞれア, イから選びなさい。

先生：写真1を見てください。

生徒：アメリカで見られるセンターピボット方式の円形農地ですね。

先生：そのとおりです。しかし、この写真はアメリカで撮られたものではありません。どの地域で撮られたものだと思いますか。

生徒：略地図の  ① の地域ではないでしょうか。この方式は、  
② {ア 乾燥している            イ 湿度が高い} 地域で行われることから判断しました。

先生：そのとおりです。それでは、写真2はどうでしょうか。

生徒：アメリカのフィードロットですね。

先生：確かにフィードロットですが、実はこの写真もアメリカで撮られたものではありません。どの地域で撮られたものだと思いますか。

生徒： ③ の地域ではないでしょうか。

アメリカも  ③ の地域も、④ {ア 混合農業            イ 畜産} が盛んであり、多くの国々へ牛肉を輸出していることから判断しました。

先生：そのとおりです。世界の様々な場所で同じような特徴の農業が営まれていることがわかりましたね。

写真1




写真2



問2 資料1は、略地図のモルディブに関する新聞記事をまとめたものです。モルディブがこのような政策を行っている理由を、グラフから読みとれる情報を使い、この国の抱える地球規模の環境課題にふれて説明しなさい。

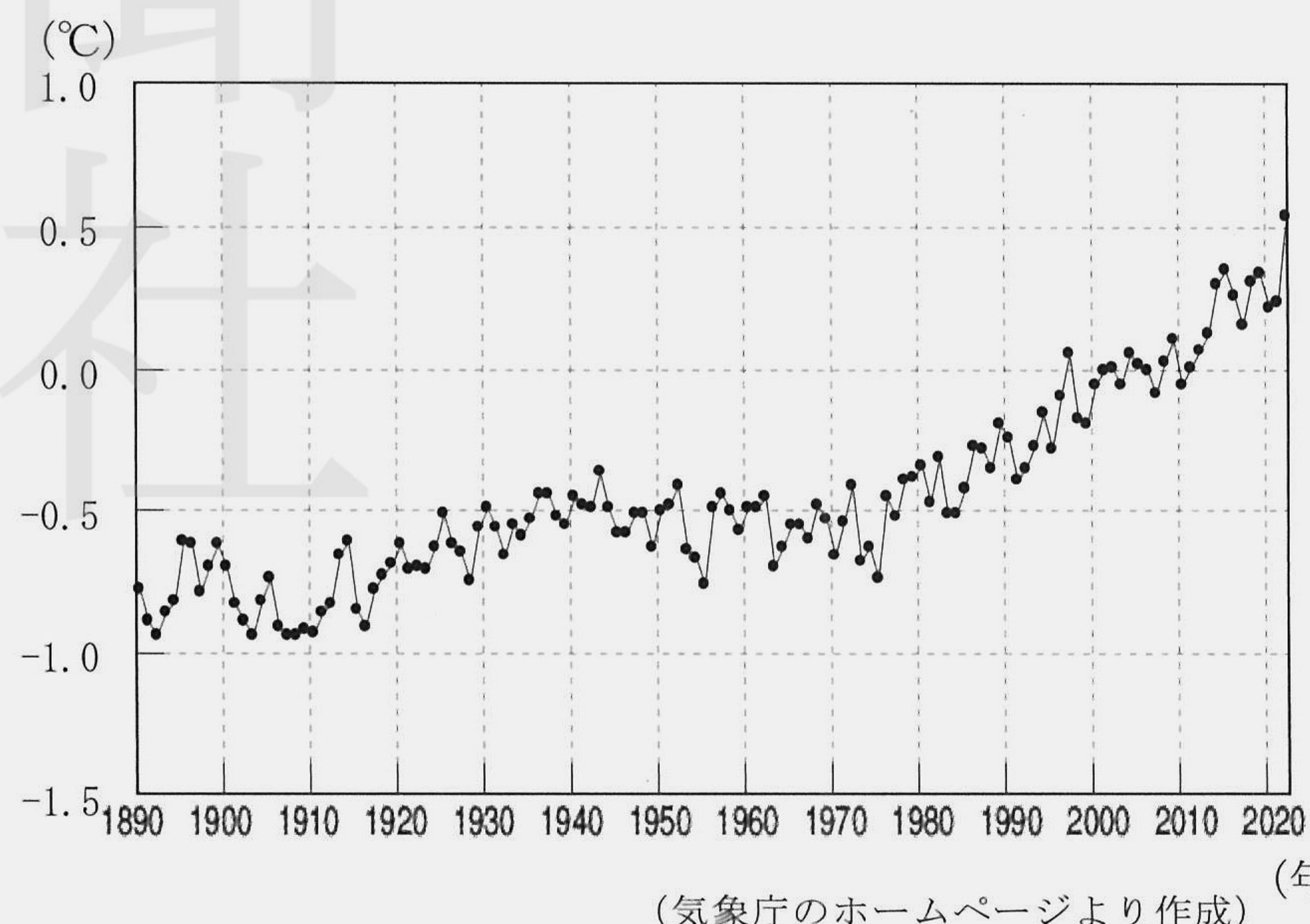
### 資料1

インド南端から南西に約600kmの地点にある小さな島国であるモルディブを訪ねた。首都マレの北東、フェリーで約15分のところにある人工島「フルマーレ」(写真3)は、広さが約4km<sup>2</sup>で、環礁<sup>かんしょう</sup>の内側に海底から浚渫<sup>しゅんせつ</sup>した砂を積み上げて建設されており、平均標高は首都マレよりも1m高い約2mである。現在、人工島の広さを2倍にし、2050年ごろまでに集合住宅や商業施設を整備して、総人口の約3分の2にあたる最大24万人が住めるようにする大プロジェクトが進んでいる。(新聞記事より作成)

### 写真3



グラフ 世界の年平均気温の推移(1991～2020年の平均気温からの差)



問3 写真4は、略地図のイタリアで見られる家の写真です。また、資料2は、こうした家が見られる地域の気候や農業の特徴をまとめた文です。写真4に見られる家の工夫とその効果を、資料2をふまえて説明しなさい。

### 写真4

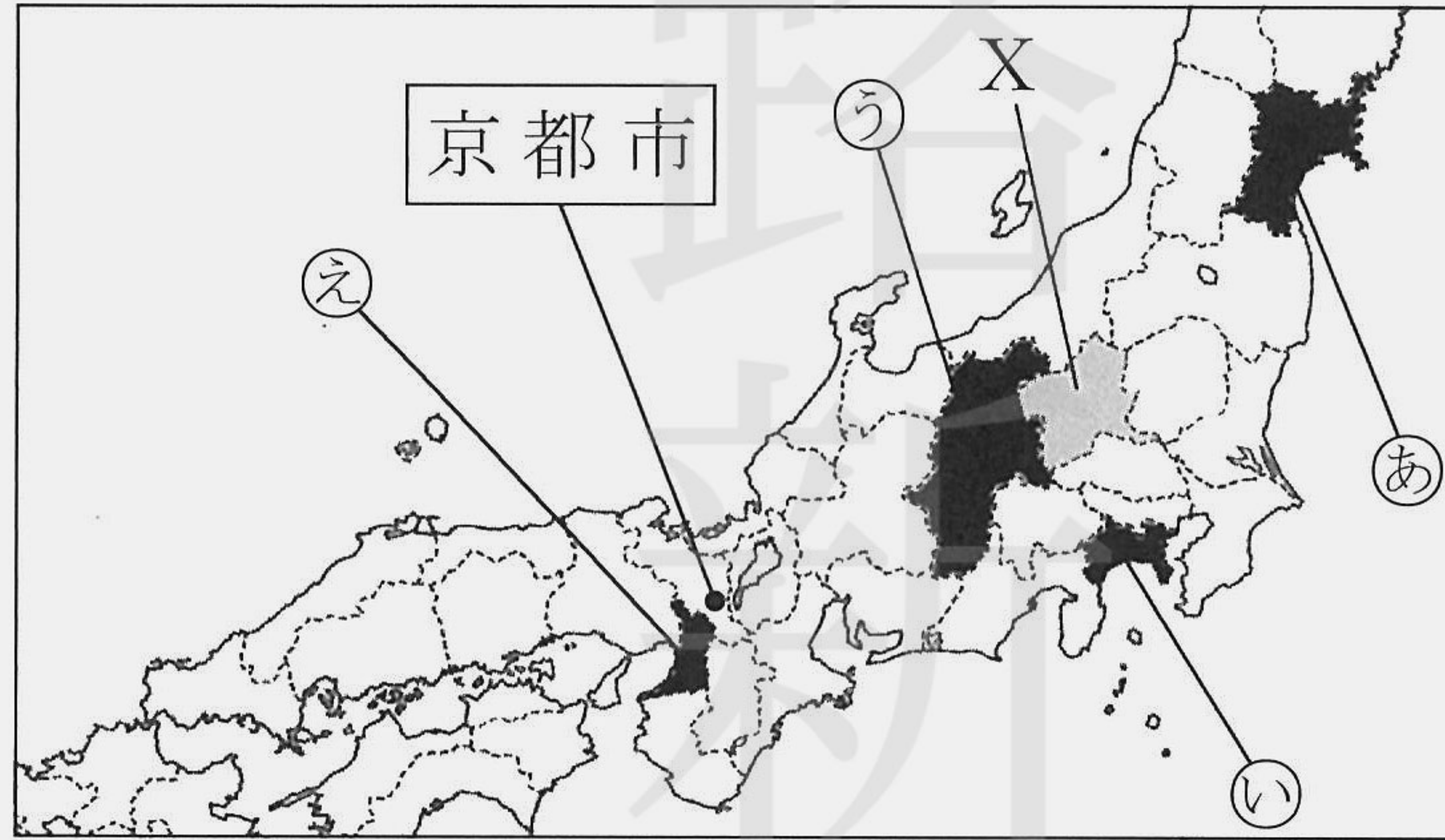


### 資料2

この地域では、夏に乾燥し日ざしが強いという気候から、オリーブや、オレンジなどのかんきつ類が栽培されている。

**B** 略地図を見て、次の問いに答えなさい。

略地図



問1 表の a～d には、略地図の ㊦～㊧ の府県のいずれかが当てはまります。㊦と㊧の府県が当てはまるものを、a～d からそれぞれ選びなさい。


表

項目 府県	人口 (千人)	外国人延べ宿泊者数 (千人)	火力発電電力量 (百万kWh)	水力発電電力量 (百万kWh)
a	8,838	2,130	18,733	1
b	2,302	66	11,620	264
c	2,048	180	116	7,373
d	9,237	509	81,821	521

※ データは、人口は2020年、外国人延べ宿泊者数は2022年、火力及び水力発電電力量は2021年。  
 (「データでみる県勢2024」より作成)

問2 資料1は、中学生Aさんが、略地図のXの県にある世界遺産(文化遺産)を構成するある施設についてまとめたものです。これを見て、(1)、(2)に答えなさい。

資料1

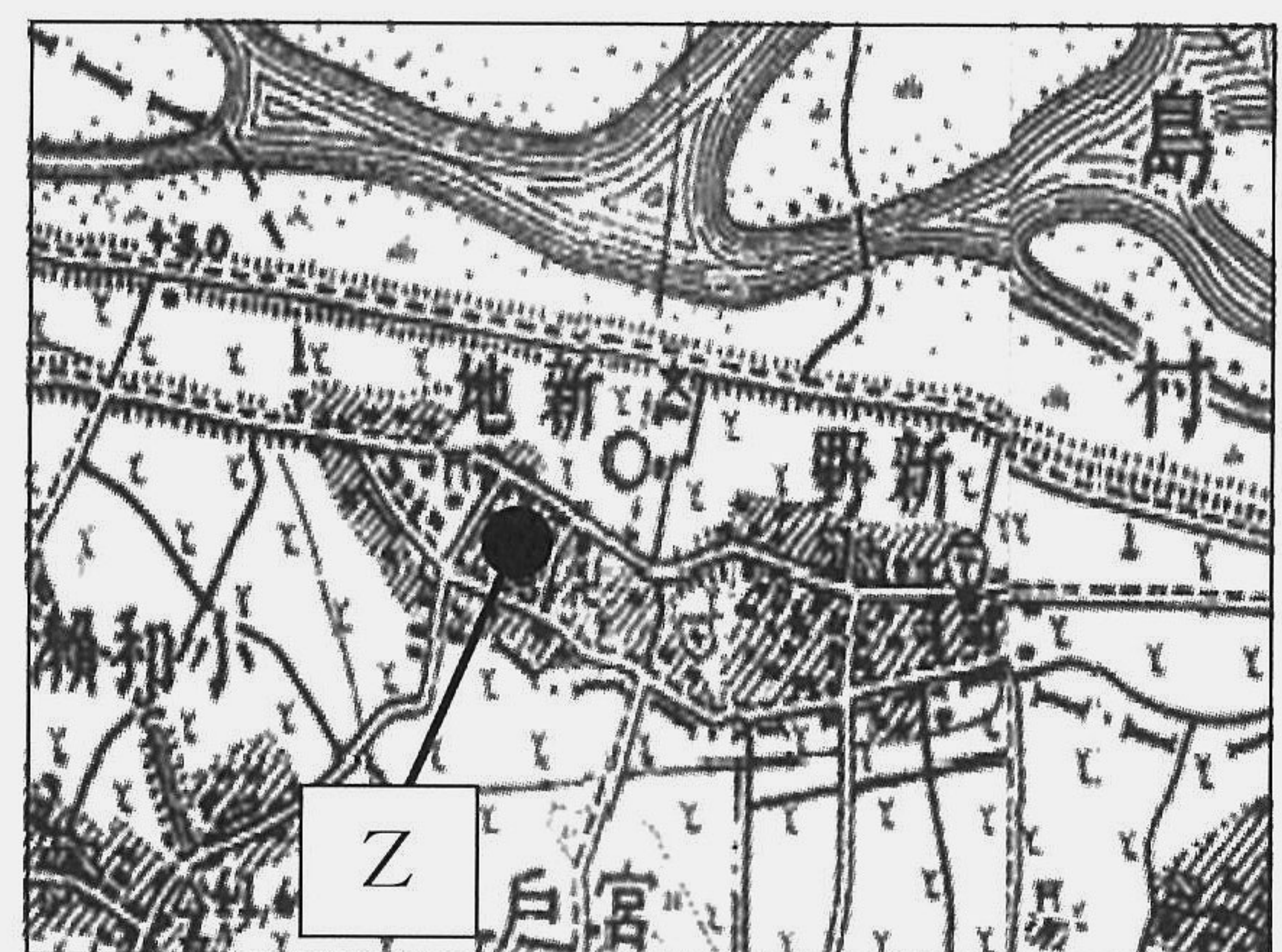
施設の名前	田島弥平旧宅	写真 
世界遺産(文化遺産)の名前	<input type="text"/> 製糸場と絹産業遺産群	
施設の説明	写真は、空気の入れ換えを重視した蚕の飼育法である「清涼育」 <sup>せいりょういく</sup> を完成させた、田島弥平の家です。この家の2階の屋根には、「清涼育」を行うための換気用の越屋根 <sup>こしやね</sup> がついています。	

(1) 資料1の  に当てはまる語句を答えなさい。

(2) 地形図の地点Zは、写真の施設の場所を示しています。地形図を見ると、この施設の周囲には、現在の地形図では使われていない Y の地図記号が多く見られます。この地図記号が示している土地で栽培されていた作物として正しいものを、ア～エから選びなさい。

- |     |      |
|-----|------|
| ア 茶 | イ 小麦 |
| ウ 桑 | エ 綿花 |

地形図



(国土地理院5万分の1地形図<昭和15年>による。)

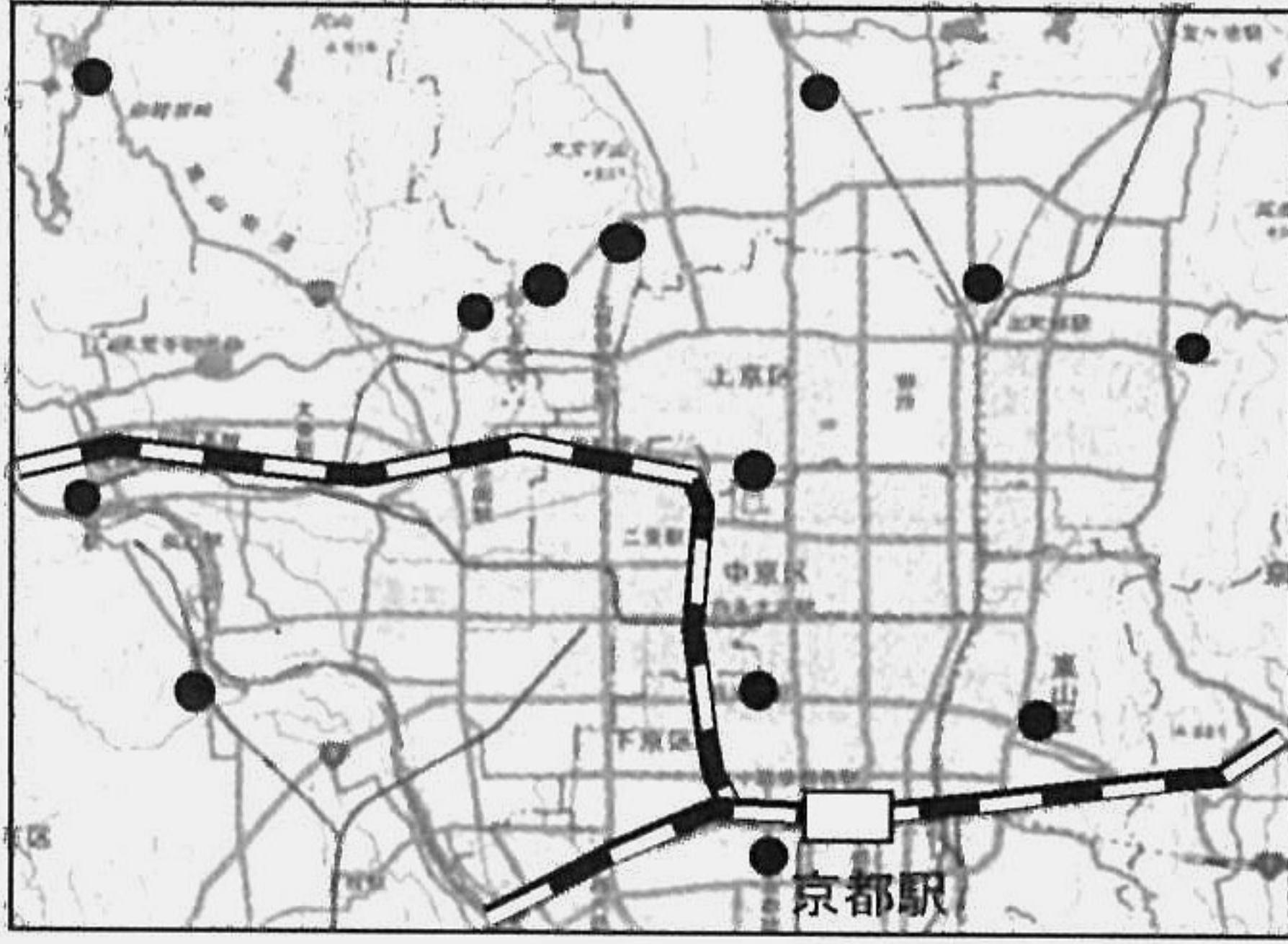
問3 中学生Bさんは京都市の観光について調べ、レポートにまとめました。レポートを見て、(1)、(2)に答えなさい。

レポート

問い 京都市は、どのように観光に力を入れてきたのだろうか。

考察するための資料

㊦京都市内の主な世界遺産



㊧ガイド認定制度



㊨壁が和風に装飾されたコンビニエンスストア



考察

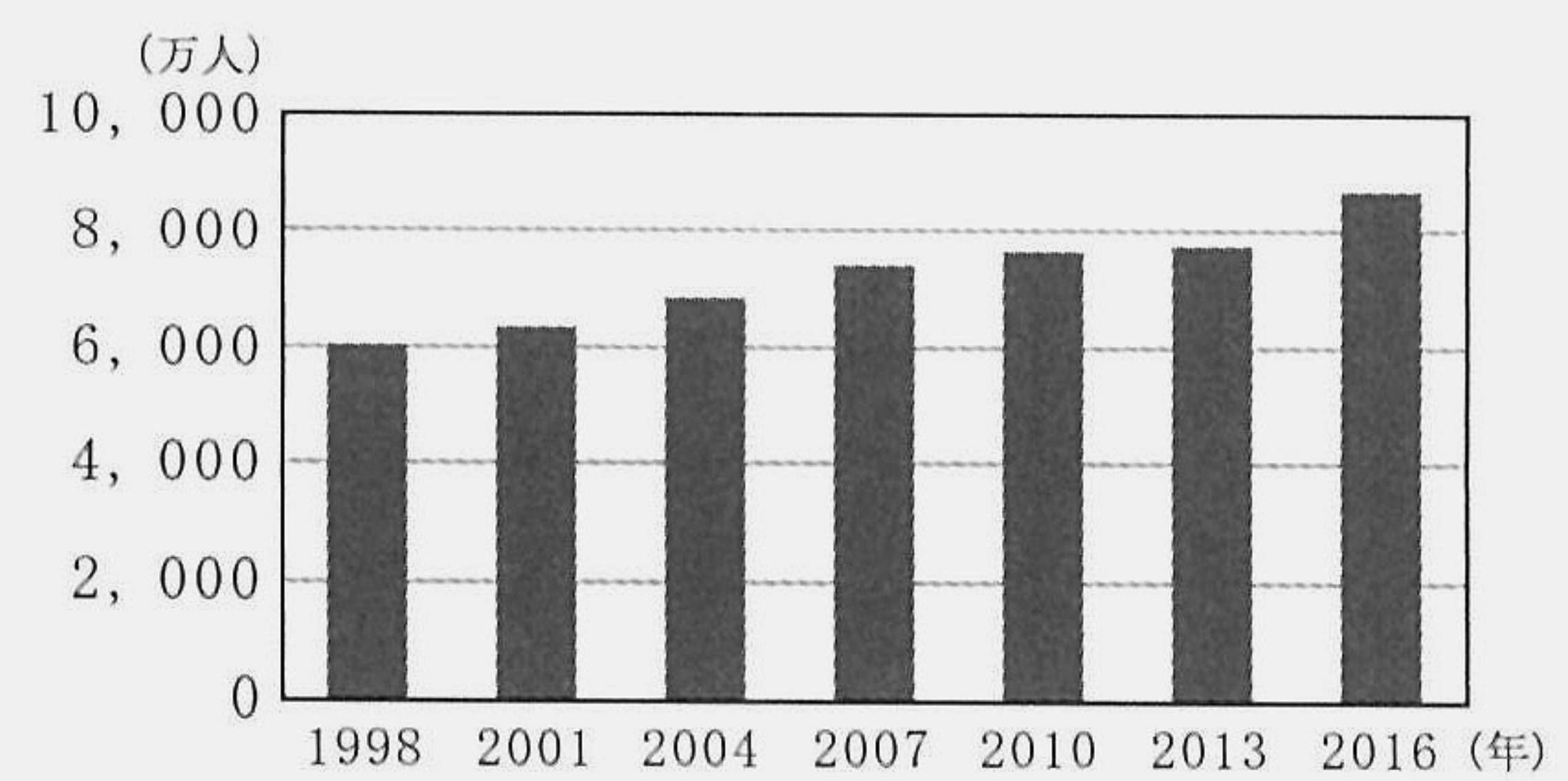
㊦1994年に世界遺産に登録され、さらに京都市の名前が有名になる。

㊧ガイドを制度化し、京都市を訪れる観光客へのおもてなしに力を入れている。

㊨  ために、建物の高さやデザインなどを制限している。

京都は観光都市としてさらに発展し、京都を訪れる観光客は増加を続けている！

京都市を訪れる観光客数の推移



(京都府商工労働観光部資料より作成)

新たな問い 観光客が増えることによって生じる課題はないだろうか。

(1) 考察㊨が、京都市内の建築物に高さやデザインなどの制限が設けられている理由となるように、 に当てはまる内容を書きなさい。

(2) 資料2、3は、Bさんが下線部 観光客が増えることによって生じる課題はないだろうか。 について調べるために収集した資料の一部です。京都市がこのような資料を作成したねらいを、「住民」、「観光客」という語句を使い、説明しなさい。

資料2

京都を盛り上げ、新しいたしなみ。

## 京都まちけっと

京都まちけっと KYOTO MACHIQUETTE

皆さまのお心遣いによって  
安心の輪を広げる。まちのエチケットです。

朝・夜観光で京の魅力を堪能する

混雑する人気スポットは朝や夜などピークを避けて静かに観光する。

ごみを出さない旅の意気込み

お土産は簡易包装にしようなど、ごみを増やさないよう努める。

賢く乗ってスイスイ快適に

公共交通機関を活用し、快適な京都旅を満喫する。

資料3

## 「観光急行バス」の新設

新たに京都駅から清水寺方面を結ぶ急行バスを、利用の多い午前を中心に、15分間隔で運行します。また、鉄道駅と主な観光地との間など、利用の多い区間の増発を行います。

4

資料1は、ある中学校の社会科の授業で、生徒たちが班ごとに設定した、探究するための課題をまとめたものです。これを見て、次の問いに答えなさい。(配点 22)

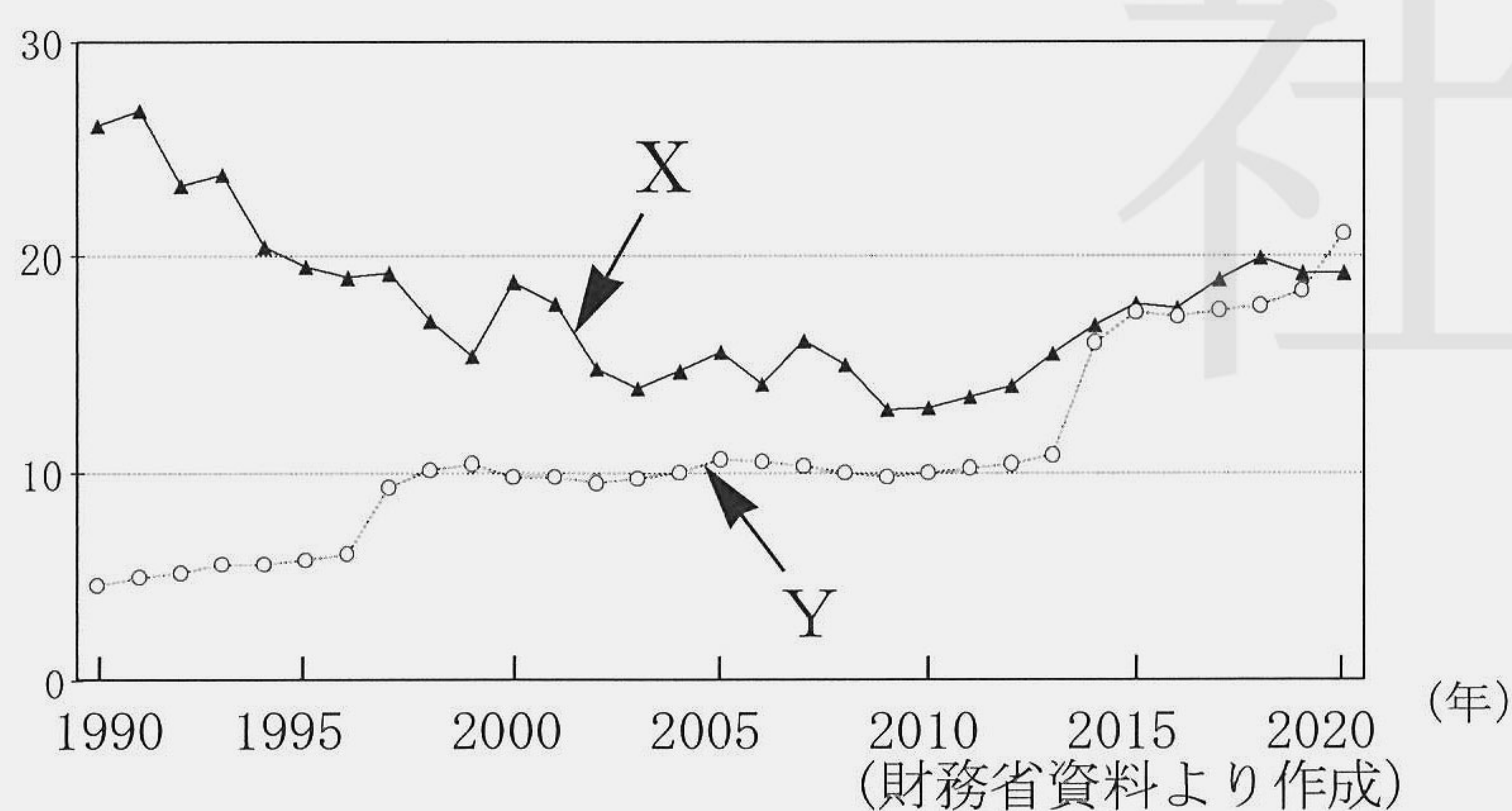
## 資料1

- 1班 ㉞税金には、どのような特徴があるのだろうか？  
 2班 人権が㉟公共の福祉によって制限される場合として、どのような例があるだろうか？  
 3班 ㊱裁判は、どのようなしくみで行われているのだろうか？  
 4班 ㊲経済の安定化を図るために、どのような政策が行われているのだろうか？  
 5班 日本の国会の㊳二院制には、どのようなしくみやはたらきが見られるのだろうか？  
 6班 ㊴経済のグローバル化は、日本経済にどのような影響を与えたのだろうか？

問1 下線部㉞について、グラフは、消費税と所得税の税収の推移をそれぞれ示したものであり、資料2は消費税の税率を示したものです。グラフと資料2を読みとり、次の文の①、②の { } に当てはまる語句を、それぞれア、イから選びなさい。

## グラフ

(兆円)



## 資料2

- 1989年 税率3%で導入  
 1997年 税率5%に引き上げ  
 2014年 税率8%に引き上げ  
 2019年 税率10%に引き上げ

グラフで消費税を表しているのは、資料2から考えると、① {ア X イ Y} と判断できる。また、グラフより、消費税による税収は、景気の変動に、② {ア 左右されやすい イ 左右されにくい} という特徴が読みとれる。

問2 下線部㉟に関して、表は、日本国憲法で保障された人権の内容と、公共の福祉によって人権が制限される例についてまとめたものの一部です。① ~ ④ に当てはまるものを、ア~エからそれぞれ選びなさい。

## 表

人権の内容	公共の福祉による人権の制限の例
表現の自由	①, 他人の名誉を傷つける行為の禁止
居住・移転の自由	②
労働基本権	③
財産権	④, 道路や空港建設のための土地の収用

- ア 公務員のストライキの禁止      イ 不備のある建築の禁止  
 ウ 感染症による入院措置      エ 選挙運動の制限 (不当な選挙運動の禁止)

問3 下線部②について、先生と生徒との次の会話を読んで、①、② に共通して当てはまる語句をそれぞれ書きなさい。また、{ } に当てはまる語句を、ア、イから選びなさい。

先生：資料3は刑事裁判が行われている法廷内の様子を示したものです。裁判に登場する人々について、それぞれの役割を説明できますか。


生徒：はい。①の役割は、犯罪が起こると警察官の協力を得て捜査を行い、被疑者が犯罪を犯したことが証拠上明白であり、刑罰を科すべきであると判断した場合に被疑者を裁判所に訴えることです。

先生：そうですね。被疑者を裁判所に訴えることを{ア 控訴      イ 起訴}といいます。では、②の役割については説明できますか。

生徒：②は、裁判の手続きや法律などの専門的な知識が必要な事柄について被告人の利益や権利を守る手助けをします。

先生：よく理解できていますね。

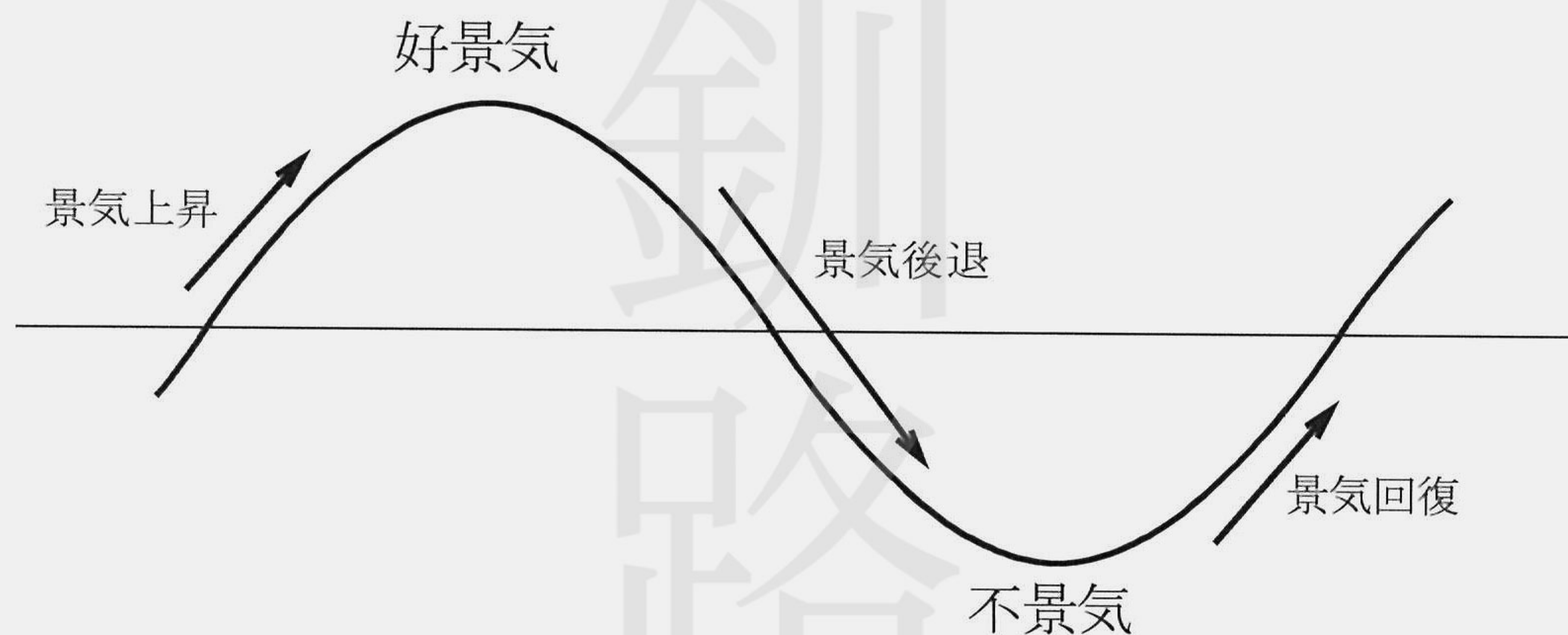
資料3



(裁判所ホームページより作成)

問4 下線部②に関して、次の図は、景気変動（景気循環）の様子を表したものです。好景気の時期に一般的に見られることについて説明した文として適当なものを a ~ f から3つ選んだとき、組み合わせとして正しいものを、ア~クから選びなさい。

図



- a 物価が上がり続けるインフレーションが起こる。
- b 物価が下がり続けるデフレーションが起こる。
- c 政府は、公共事業を減らすことなどにより歳出を減らす。
- d 政府は、公共事業を増やすことなどにより歳出を増やす。
- e 日本銀行が銀行へ国債を売り、社会に出回っている通貨を回収する。
- f 日本銀行が銀行から国債を買い、社会により多くの通貨を流出させる。

- |   |         |   |         |   |         |   |         |
|---|---------|---|---------|---|---------|---|---------|
| ア | a, c, e | イ | a, c, f | ウ | a, d, e | エ | a, d, f |
| オ | b, c, e | カ | b, c, f | キ | b, d, e | ク | b, d, f |

問5 下線部㊸に関して、わが国では衆議院と参議院の議決が一致しない場合、衆議院の議決が優先されることがありますが、その理由として考えられていることを、衆議院と参議院の違いに着目して、「任期」、「解散」、「国民」という語句を使い、書きなさい。

問6 下線部㊸に関して、資料4、5は、6班の生徒が、設定した課題について探究するために収集したものです。これらを見て(1)、(2)に答えなさい。

#### 資料4

製造業の生産拠点の海外への移転が進み始めると、日本国内では、産業の  に対する危機感が強まった。

1986年5月に、ある新聞社が行った有力企業経営者を対象としたアンケート調査によれば、「業種によっては  が起こる。」と答えた経営者が全体の71%、「生産拠点の海外進出により雇用の減少が広がり、産業界全体に広く  が起こる」と答えた経営者が5%であり、合計76%の経営者が産業の  を予想していた。

#### 資料5

為替相場の年平均 (円/1米ドル)	
1980年	226.74円
1983年	237.51円
1986年	168.52円
1989年	137.96円

(「日本国勢図会2022/23」より作成)

※ 1980年代後半の日本の状況について述べたもの。  
(「バブル/デフレ期の日本経済と経済政策」より作成)

- (1)  に当てはまる語句を書きなさい。
- (2) 資料5の情報を使い、下線部            の状況がこの時期に見られた理由として考えられることを、「労働力」という語句を使い、書きなさい。